

MESURE : mesurer des longueurs et effectuer des calculs (2/2)

Nom :

Date :

1/ Matsuka et Kyami rentrent chez elles.

Avec ta règle, mesure leur trajet et note les résultats.

Colorie le personnage qui a parcouru le plus long chemin.

Fais tes calculs ici :

.....

.....

.....

.....

.....

.....

.....

.....

.....

.....

.....

.....

.....

.....

.....

.....

.....

.....

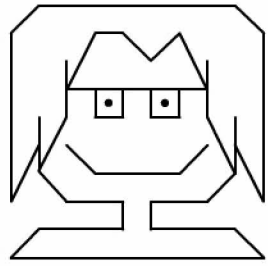
.....

.....


.....

Résultat :

.....



Matsuka



Fais tes calculs ici :

.....

.....

.....

.....

.....

.....

.....

.....

.....

.....

.....

.....

.....

.....

.....

.....

.....

.....


.....

.....

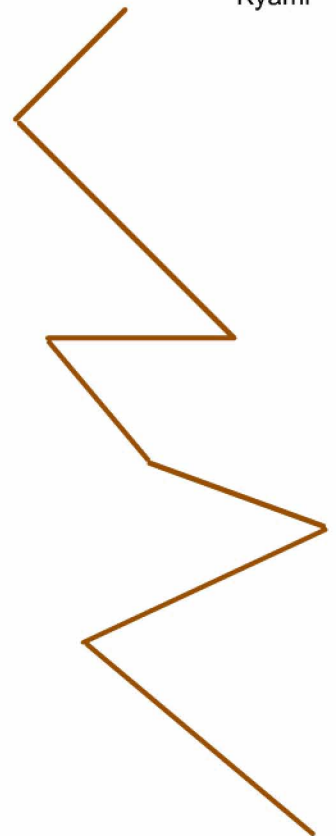
.....

Résultat :

.....



Kyami



2/ Compare les deux trajets : quelle est la différence de longueur...

... en centimètres ?

... en millimètres ?