

Ojectif : calculer 3 fois un nombre.

1) Calcule le nombre de cachets que prend Pierrot dans la journée.

- 3 cachets à prendre 3 fois par jour.
Dessine le nombre de cachets et complète l'égalité.



3 fois 3 =

2) Calcule le nombre de fleurs que plante le jardinier.


- 4 fleurs dans 3 pots.
Dessine le nombre de fleurs et complète l'égalité.



4 fois 3 =

3) Calcule le nombre de trous dans du fromage.






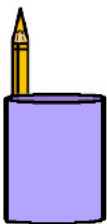
- 5 trous dans 3 morceaux de fromage.
Dessine le nombre de trous et complète l'égalité.



5 fois 3 =

4) Calcule le nombre de crayons dans les pots.

- 6 pots de 3 crayons.
Dessine le nombre de crayons et complète l'égalité.



6 fois 3 =