

De 0 à 6

Nom :

Date :

1. Écris le nombre de pattes.



.....



.....



.....



.....



.....



.....

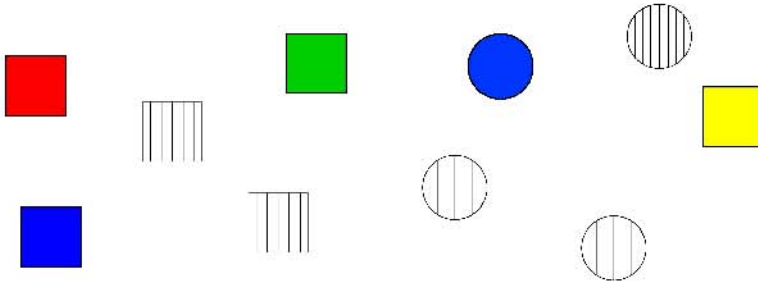


.....



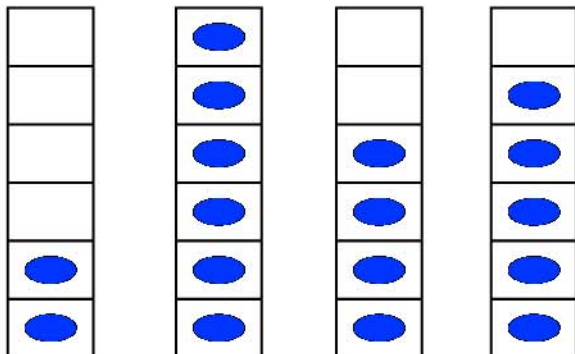
.....

2. Écris le nombre de carrés, de rayés, de cercles.



Carrés
Rayés
Cercles

3. Complète l'étiquette nombre.



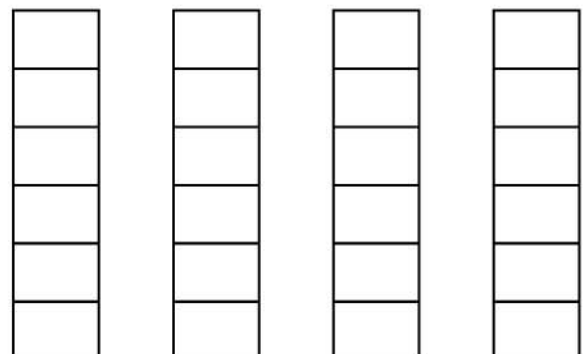
.....

.....

.....

.....

4. Dessine autant de points.



3

1

0

6